

WYPEŁNIA UCZEŃ

KOD UCZNIKA

--	--	--

PESEL

--	--	--	--	--	--	--	--	--	--	--	--

*miejsce  
na naklejkę*



# Egzamin ósmoklasisty Matematyka

DATA: 16 kwietnia 2019 r.

GODZINA ROZPOCZĘCIA: 9:00

CZAS PRACY: 100 minut

## Instrukcja dla ucznia

1. Sprawdź, czy na kolejno ponumerowanych **20 stronach** jest wydrukowanych **21 zadań**.
2. Sprawdź, czy do arkusza jest dołączona karta odpowiedzi.
3. Ewentualny brak stron lub inne usterki zgłoś nauczycielowi.
4. Na tej stronie i na karcie odpowiedzi wpisz swój kod, numer PESEL i przyklej naklejkę z kodem.
5. Czytaj uważnie wszystkie teksty i zadania. Wykonuj zadania zgodnie z poleceniami.
6. Rozwiązania zadań zapisuj długopisem lub piórem z czarnym tuszem/atramentem.
7. Nie używaj korektora.
8. Rozwiązania zadań **zamkniętych**, tj. **1–15**, zaznacz na karcie odpowiedzi zgodnie z instrukcją zamieszczoną na następnej stronie. W każdym zadaniu poprawna jest zawsze **tylko jedna** odpowiedź.
9. Rozwiązania zadań **otwartych**, tj. **16–21**, zapisz czytelnie i starannie w wyznaczonych miejscach w arkuszu egzaminacyjnym. Ewentualne poprawki w odpowiedziach zapisz zgodnie z instrukcjami zamieszczonymi na następnej stronie.
10. Zapisy w brudnopisie nie będą sprawdzane i oceniane.

***Powodzenia!***

WYPEŁNIA ZESPÓŁ NADZORUJĄCY

Uprawnienia  
ucznia do:

dostosowania  
zasad oceniania.

nieprzenoszenia  
odpowiedzi na kartę.



OMAP-100-1904

## Zapoznaj się z poniższymi instrukcjami

### 1. Jak na karcie odpowiedzi zaznaczyć poprawną odpowiedź oraz pomyłkę w zadaniach zamkniętych?

Staraj się nie popełniać błędów przy zaznaczaniu odpowiedzi, ale jeśli się pomylisz, błędne zaznaczenie otocz kółkiem i zaznacz inną odpowiedź, np.



Poprawna odpowiedź w zadaniu	Układ możliwych odpowiedzi na karcie odpowiedzi	Sposób zaznaczenia <b>poprawnej</b> odpowiedzi	Sposób zaznaczenia <b>pomyłki</b> i poprawnej odpowiedzi												
C	<table border="1"><tr><td>A</td><td>B</td><td>C</td><td>D</td></tr></table>	A	B	C	D	<table border="1"><tr><td>A</td><td>B</td><td>■</td><td>D</td></tr></table>	A	B	■	D	<table border="1"><tr><td>A</td><td>●</td><td>■</td><td>D</td></tr></table>	A	●	■	D
A	B	C	D												
A	B	■	D												
A	●	■	D												
AD	<table border="1"><tr><td>AC</td><td>AD</td><td>BC</td><td>BD</td></tr></table>	AC	AD	BC	BD	<table border="1"><tr><td>AC</td><td>■</td><td>BC</td><td>BD</td></tr></table>	AC	■	BC	BD	<table border="1"><tr><td>AC</td><td>■</td><td>●</td><td>BD</td></tr></table>	AC	■	●	BD
AC	AD	BC	BD												
AC	■	BC	BD												
AC	■	●	BD												
FP	<table border="1"><tr><td>PP</td><td>PF</td><td>FF</td><td>FF</td></tr></table>	PP	PF	FF	FF	<table border="1"><tr><td>PP</td><td>PF</td><td>■</td><td>FF</td></tr></table>	PP	PF	■	FF	<table border="1"><tr><td>PP</td><td>■</td><td>●</td><td>FF</td></tr></table>	PP	■	●	FF
PP	PF	FF	FF												
PP	PF	■	FF												
PP	■	●	FF												

### 2. Jak zaznaczyć pomyłkę i zapisać poprawną odpowiedź w zadaniach otwartych?

Jeśli się pomylisz, zapisując odpowiedź w zadaniu otwartym, pomyłkę przekreśl i napisz poprawną odpowiedź, np.

nad niepoprawnym fragmentem

*64 cm<sup>2</sup>*

*Pole kwadratu jest równe ~~100 cm<sup>2</sup>~~.*

lub obok niego, np.

*Pole kwadratu jest równe ~~100 cm<sup>2</sup>~~ 64 cm<sup>2</sup>*

**Zadania egzaminacyjne są wydrukowane na kolejnych stronach.**

**Zadanie 1. (0–1)**

Na rysunku przedstawiono kartkę z kalendarza na rok 2017.

<b>SIERPIEŃ</b> <b>2017</b> <b>31</b> <b>Czwartek</b> Imieniny: Bogusławy, Augusta
---

Natalia obchodzi urodziny 31 sierpnia, jej siostra Ewa – 18 sierpnia, a brat Karol – 2 października.

Oceń prawdziwość podanych zdań. Wybierz P, jeśli zdanie jest prawdziwe, albo F – jeśli jest fałszywe.

W 2017 r. urodziny Ewy wypadły w piątek.	<b>P</b>	<b>F</b>
W 2017 r. dniem urodzin Karola był poniedziałek.	<b>P</b>	<b>F</b>

**Zadanie 2. (0–1)**

Liczba 1450 jest zaokrągleniem do rzędu dziesiątek kilku liczb naturalnych.

Ile jest wszystkich liczb naturalnych różnych od 1450, które mają takie zaokrąglenie? Wybierz właściwą odpowiedź spośród podanych.

- A. 4                      B. 5                      C. 9                      D. 10

**Zadanie 3. (0–1)**

W tabeli zapisano trzy wyrażenia.


I	$5^2 \cdot 10^8 \cdot 5^4$
II	$(5^{10} : 5^2) \cdot 10^8$
III	$2^8 \cdot 5^8 \cdot 5^8$

Które z tych wyrażen są równe  $50^8$ ? Wybierz właściwą odpowiedź spośród podanych.

- A. Tylko I i II.            B. Tylko II i III.        C. Tylko II.              D. Tylko III.

**PRZENIEŚ ROZWIĄZANIA ZADAŃ NA KARTĘ ODPOWIEDZI!**

*Brudnopis*



**Zadanie 4. (0–1)**

Dane są cztery wyrażenia:

I.  $4 + \sqrt{35}$

II.  $6 + \sqrt{17}$

III.  $17 - \sqrt{48}$

IV.  $15 - \sqrt{26}$

**Wartości których wyrażen są mniejsze od 10? Wybierz właściwą odpowiedź spośród podanych.**

A. I i II

B. II i III

C. III i IV

D. I i IV

**Zadanie 5. (0–1)**

Adam przygotował karty do gry z czterech arkuszy kartonu. Najpierw podzielił każdy arkusz kartonu na cztery części, a następnie każdą z nich ponownie podzielił na cztery części. Tak powstał komplet kart. W grze bierze udział 5 graczy, z których każdy otrzymuje jednakową liczbę kart.

**Uzupełnij poniższe zdania. Wybierz odpowiedź spośród oznaczonych literami A i B oraz odpowiedź spośród oznaczonych literami C i D.**Adam przygotował 

A	B
---	---

 karty do gry.

A. 32

B. 64

Każdy gracz może otrzymać maksymalnie 

C	D
---	---

 kart.

C. 12

D. 13

**Zadanie 6. (0–1)**

Dorota sporządziła z cukru i wody syrop do deseru. Stosunek masy cukru do masy wody w tym syropie jest równy 5 : 3.

**Ile procent masy tego syropu stanowi masa cukru? Wybierz właściwą odpowiedź spośród podanych.**

A. 25%

B. 37,5%

C. 40%

D. 60%

E. 62,5%

**Zadanie 7. (0–1)**


W pewnej firmie zatrudnionych jest więcej niż 10 pracowników. Połowa z nich zarabia po 3000 zł, a druga połowa – po 4000 zł.

**Oceń prawdziwość podanych zdań. Wybierz P, jeśli zdanie jest prawdziwe, albo F – jeśli jest fałszywe.**

Średnia arytmetyczna zarobków w tej firmie jest równa 3500 zł.	<b>P</b>	<b>F</b>
Gdy z pracy w tej firmie zrezygnują dwie osoby, z których jedna zarabia 3000 zł, a druga 4000 zł, to średnia arytmetyczna zarobków się nie zmieni.	<b>P</b>	<b>F</b>

**PRZENIEŚ ROZWIĄZANIA ZADAŃ NA KARTĘ ODPOWIEDZI!**

*Brudnopis*



**Zadanie 8. (0–1)**

Dokończ zdanie. Wybierz właściwą odpowiedź spośród podanych.

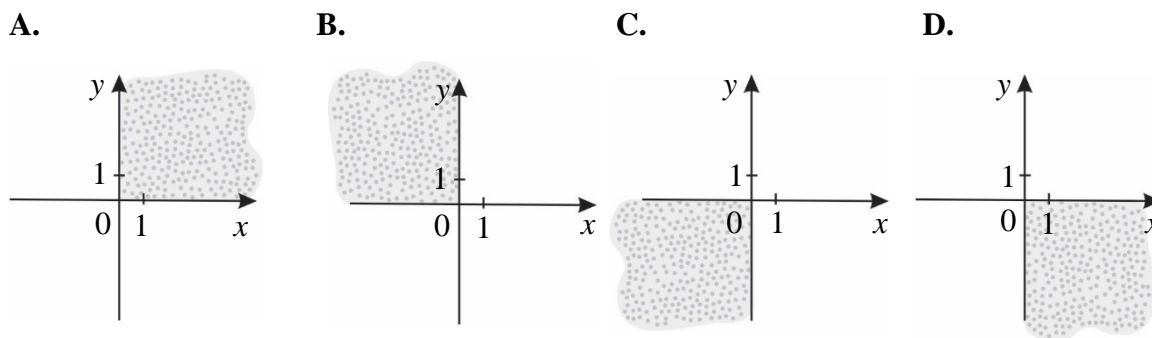
Wyrażenie:  $(2a + 3b)(3b - 2a)$  jest równe

- A.  $4a^2 - 12ab + 9b^2$
- B.  $9b^2 + 12ab + 4a^2$
- C.  $9b^2 - 4a^2$
- D.  $4a^2 - 9b^2$

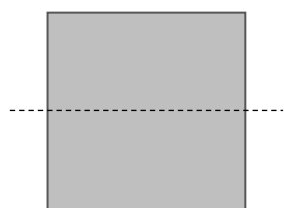
**Zadanie 9. (0–1)**

W układzie współrzędnych wyznaczono odcinek o końcach w punktach  $K$  i  $L$ . Punkty te mają współrzędne  $K = (-17, 6)$  oraz  $L = (15, -4)$ .

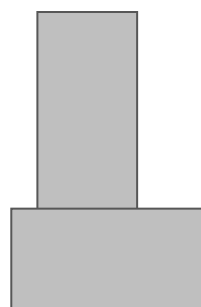
Na którym rysunku zakropkowana część płaszczyzny zawiera środek odcinka  $KL$ ?  
Wybierz właściwą odpowiedź spośród podanych.

**Zadanie 10. (0–1)**

Kwadrat o boku  $a$  przedstawiony na rysunku I rozcięto na dwa przystające prostokąty, z których ułożono figurę, jak na rysunku II. Pole ułożonej figury jest równe polu kwadratu.



Rysunek I



Rysunek II


Oceń prawdziwość podanych zdań. Wybierz P, jeśli zdanie jest prawdziwe, albo F – jeśli jest fałszywe.

Obwód ułożonej figury jest większy o $1,5a$ od obwodu kwadratu.	P	F
Obwód ułożonej figury jest równy $5a$ .	P	F

**PRZENIEŚ ROZWIĄZANIA ZADAŃ NA KARTĘ ODPOWIEDZI!**

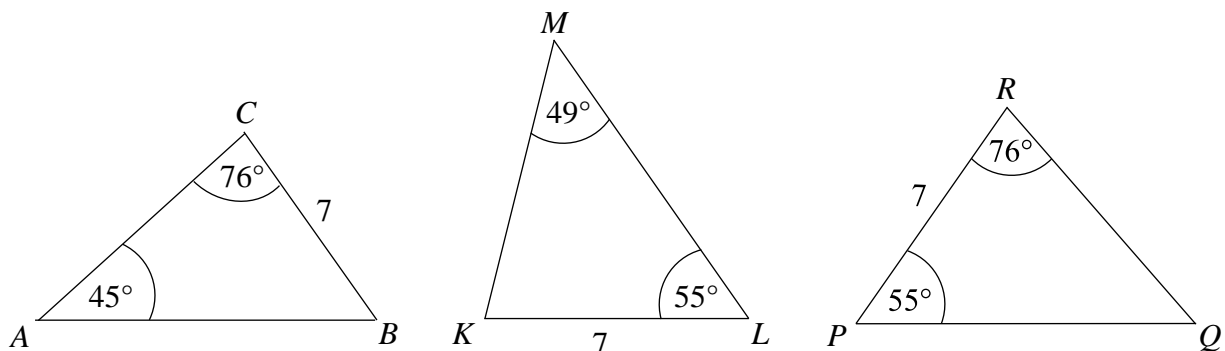


*Brudnopis*



**Zadanie 11. (0–1)**

Na rysunku przedstawiono trzy trójkąty.



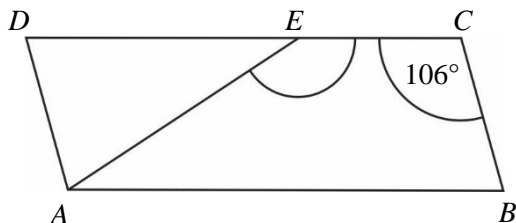
**Dokończ zdanie. Wybierz właściwą odpowiedź spośród podanych.**

Na podstawie informacji przedstawionych na rysunku można stwierdzić, że

- A. trójkąt  $ABC$  jest przystający do trójkąta  $KLM$ .
- B. trójkąt  $KLM$  jest przystający do trójkąta  $PQR$ .
- C. trójkąt  $PQR$  jest przystający do trójkąta  $ABC$ .
- D. wszystkie trójkąty są do siebie przystające.

**Zadanie 12. (0–1)**

Na rysunku przedstawiono równoległobok  $ABCD$  i trójkąt równoramienny  $AED$ , w którym  $|DE| = |AE|$ . Miara kąta  $BCE$  jest równa  $106^\circ$ .




**Jaką miarę ma kąt  $AEC$ ? Wybierz właściwą odpowiedź spośród podanych.**

- A.  $148^\circ$
- B.  $122^\circ$
- C.  $74^\circ$
- D.  $58^\circ$

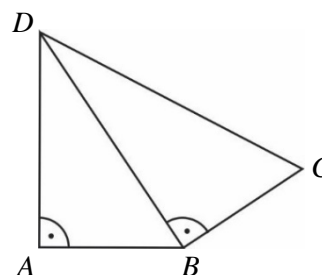
**PRZENIEŚ ROZWIĄZANIA ZADAŃ NA KARTĘ ODPOWIEDZI!**

*Brudnopis*



**Zadanie 13. (0–1)**

Na rysunku przedstawiono czworokąt zbudowany z dwóch trójkątów prostokątnych. Dane są długości boków  $|AB| = |BC| = 1$  oraz  $|AD| = \sqrt{2}$ .



**Dokończ zdanie. Wybierz właściwą odpowiedź spośród podanych.**

Długość boku  $CD$  jest równa

- A.  $\sqrt{3}$                       B. 2                      C. 3                      D.  $2\sqrt{2}$

**Zadanie 14. (0–1)**

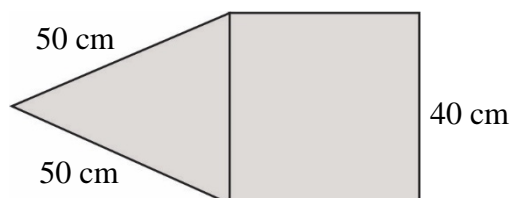
W koszu były 203 jednakowe sześciennie klocki. Zbudowano z nich możliwie największy sześcian, a pozostałe odłożono.

**Ile klocków odłożono? Wybierz właściwą odpowiedź spośród podanych.**

- A. 150                      B. 125                      C. 78                      D. 53

**Zadanie 15. (0–1)**

Na rysunku przedstawiono fragment siatki ostrosłupa prawidłowego czworokątnego.




**Dokończ zdanie. Wybierz właściwą odpowiedź spośród podanych.**

Suma długości wszystkich krawędzi tego ostrosłupa jest równa

- A. 560 cm                      B. 360 cm                      C. 260 cm                      D. 220 cm


*Brudnopis*






**Zadanie 17. (0–2)**

Samochód osobowy przebył drogę 120 km w czasie 75 minut. Prędkość średnia busa na tej samej trasie wyniosła  $80 \frac{\text{km}}{\text{h}}$ . O ile krótszy był czas przejazdu tej drogi samochodem osobowym od czasu przejazdu busem? Zapisz obliczenia.



**Zadanie 18. (0–2)**


Adam zamówił bukiet złożony tylko z goździków i róż, w którym goździków było 2 razy więcej niż róż. Jedna róża kosztowała 4 zł, a cena jednego goździka wynosiła 3 zł. Czy wszystkie kwiaty w tym bukiecie mogły kosztować 35 zł? Uzasadnij odpowiedź.





**Zadanie 19. (0–3)**


Z okazji dnia sportu w godzinach od 9:00 do 12:00 przeprowadzono połowę z wszystkich konkurencji zaplanowanych na cały dzień, a między 12:00 a 14:00 – jeszcze  $\frac{1}{3}$  z pozostałych. O godzinie 14:00 z powodu deszczu zakończono zawody. W tym dniu nie przeprowadzono 12 zaplanowanych konkurencji. Ile konkurencji planowano przeprowadzić podczas całego dnia sportu? Zapisz obliczenia.







*Brudnopis*





OMAP-100-1904

### WYPEŁNIA ZESPÓŁ NADZORUJĄCY

- Upewnienia ucznia do:  
dostosowania zasad oceniania   
nieprzenoszenia odpowiedzi na kartę

### WYPEŁNIA UCZEŃ

KOD UCZNI

PESEL

miejsce  
na naklejkę

Nr zad.	Odpowiedzi				
1	<input type="checkbox"/> PP	<input type="checkbox"/> PF	<input type="checkbox"/> FP	<input type="checkbox"/> FF	
2	<input type="checkbox"/> A	<input type="checkbox"/> B	<input type="checkbox"/> C	<input type="checkbox"/> D	
3	<input type="checkbox"/> A	<input type="checkbox"/> B	<input type="checkbox"/> C	<input type="checkbox"/> D	
4	<input type="checkbox"/> A	<input type="checkbox"/> B	<input type="checkbox"/> C	<input type="checkbox"/> D	
5	<input type="checkbox"/> AC	<input type="checkbox"/> AD	<input type="checkbox"/> BC	<input type="checkbox"/> BD	
6	<input type="checkbox"/> A	<input type="checkbox"/> B	<input type="checkbox"/> C	<input type="checkbox"/> D	<input type="checkbox"/> E
7	<input type="checkbox"/> PP	<input type="checkbox"/> PF	<input type="checkbox"/> FP	<input type="checkbox"/> FF	
8	<input type="checkbox"/> A	<input type="checkbox"/> B	<input type="checkbox"/> C	<input type="checkbox"/> D	
9	<input type="checkbox"/> A	<input type="checkbox"/> B	<input type="checkbox"/> C	<input type="checkbox"/> D	
10	<input type="checkbox"/> PP	<input type="checkbox"/> PF	<input type="checkbox"/> FP	<input type="checkbox"/> FF	
11	<input type="checkbox"/> A	<input type="checkbox"/> B	<input type="checkbox"/> C	<input type="checkbox"/> D	
12	<input type="checkbox"/> A	<input type="checkbox"/> B	<input type="checkbox"/> C	<input type="checkbox"/> D	
13	<input type="checkbox"/> A	<input type="checkbox"/> B	<input type="checkbox"/> C	<input type="checkbox"/> D	
14	<input type="checkbox"/> A	<input type="checkbox"/> B	<input type="checkbox"/> C	<input type="checkbox"/> D	
15	<input type="checkbox"/> A	<input type="checkbox"/> B	<input type="checkbox"/> C	<input type="checkbox"/> D	

### WYPEŁNIA EGZAMINATOR

Nr zad.	Punkty			
	0	1	2	3
16	<input type="checkbox"/>	<input type="checkbox"/>	<input type="checkbox"/>	
17	<input type="checkbox"/>	<input type="checkbox"/>	<input type="checkbox"/>	
18	<input type="checkbox"/>	<input type="checkbox"/>	<input type="checkbox"/>	
19	<input type="checkbox"/>	<input type="checkbox"/>	<input type="checkbox"/>	<input type="checkbox"/>
20	<input type="checkbox"/>	<input type="checkbox"/>	<input type="checkbox"/>	<input type="checkbox"/>
21	<input type="checkbox"/>	<input type="checkbox"/>	<input type="checkbox"/>	<input type="checkbox"/>



--	--	--	--	--	--	--	--	--

**KOD EGZAMINATORA**

.....  
*Czytelny podpis egzaminatora*